




İMAM HATİP OKULLARI

6.SINIF ÇEVİRİM İÇİ DENEME SINAVI

SORU KİTAPÇIĞI



KOORDİNATÖR OKUL: NİYAZİ MISRİ ANADOLU İMAM HATİP LİSESİ

1. I. Sizin evden bizim eve tek araç ile gelebilirsiniz. (Vasıta)
 II. Oyuncular, yarışma bitiminde evine gitti. (Müsabaka)
 III. Sonbahar gelince tüm ağaçlar yapraklarını döker. (Güz)
 IV. Savaş bir toplumu en derinden etkileyen olaydır. (Kavga)

Numaralanmış cümlelerde geçen altı çizili sözcüklerden hangisinin eş anlamlısı yay ayaç içinde yanlış verilmiştir?

- A) IV. B) III C) II. D) I.

2. Beykoz isminin nereden geldiğine ilişkin çeşitli rivayetler söz konusudur. Bu rivayetler içerisinde en meşhuru, Beykoz isminin Kocaeli beylerbeyinin Beykoz'da oturmasına nispetle üretilenidir. Rivayetlere göre Farsçada köy anlamına gelen "kos" sözcüğünün Türkçe "bey" sözcüğüne eklenmesi sonucunda ortaya çıkan Beykos (Beyköyü) sözcüğü kentin adı olarak kalmıştır. Beykos zamanla Beykoz'a dönüşmüştür.

Bu metinden "Beykoz" ile ilgili aşağıdakilerden hangisine değnilmemiştir?

- A) Farklı dildeki bir sözcüğün dilimize eklenmesi sonucunda "Beykoz" isminin oluşturulduğuna
 B) İsmi nereden geldiğiyle ilgili farklı söylentilerin olduğuna
 C) Eski zamanlarda bir beyin orada oturmuş olduğuna
 D) Beykoz isminin karışık bir yapıya sahip olduğuna

3. **Öğrenci:** Sıfat nedir öğretmenim?

Öğretmen: Bir ismi nitelik, nicelik, gösterme, sayı, sıra vb. yönlerden niteleyen veya belirten sözcüklerdir.

Aşağıdaki cümlelerde eşleştirilen sıfatlardan hangisi yanlıştır?

Cümleler	Sıfatların Türü
A) Hangi dağda kurt öldü?	Soru Sıfatı
B) Soru yazmak için tüm dergileri topladı.	Belgisiz Sıfat
C) Bugün eve öteki yoldan gittik.	Niteleme Sıfatı
D) Biz kardeşim ile yarım elmayı bile bölerek yeriz.	Sayı Sıfatı

4. Teknoloji artık elimizde âdeta sabit bir organ hâline gelebiliyor. Doğayla konuşmak artık kimseye cazip gelmiyor. Neden gelsin ki? Hangi toprağın telefonu, bilgisayarı var, hangi karınca sizin fotoğrafınızı beğenebilir veya bir fotoğrafçı gibi sürekli sizin fotoğrafınızı çekebilir.

Bu metindeki altı çizili sözcüklerin yapıları aşağıdakilerden hangisinde sırasıyla doğru olarak verilmiştir?

- A) Basit - Birleşik - Türemiş
 B) Birleşik - Basit - Türemiş
 C) Türemiş - Basit - Birleşik
 D) Basit - Türemiş - Birleşik

5. Ankara'daki bir taksi durağında ilk beş sırada Yenimahalle, Sincan, Çubuk, Çankaya, Mamak'a gidecek taksiler bulunmaktadır. Her sıra farklı bir ilçe için ayrılmıştır. Filiz, Meryem, Tülay, Saliha ve Fazilet farklı ilçelere gitmek üzere taksi durağına gelmişlerdir.

- Sıra numaraları soldan sağa doğru artmaktadır.
- Tülay 3 numaralı sıradan, Hafize 4 numaralı sıradan kalkacak taksiye binecektir.
- Sincan sırasının hemen solunda Yenimahalle, hemen sağında ise Çubuk sırası bulunmaktadır.
- Çubuk sırası Çankaya ve Mamak sıralarının solunda yer almaktadır.

Bu bilgilere göre aşağıdakilerden hangisi kesin olarak yanlıştır?

- A) Saliha, Çankaya ya da Mamak'a gitmiştir.
 B) Filiz, Yenimahalle ya da Sincan'a gitmiştir.
 C) Çubuk taksisi 3. sırada kalkmaktadır.
 D) Sincan taksisi 1. sırada kalkmaktadır.

Aşağıdaki görselde 2019 yılının Ekim – Aralık dönemine ait turizm istatistikleri verilmiştir.



6. **Bu görsele göre aşağıdakilerden hangisine ulaşamaz?**

- A) 2018 yılının Ekim – Aralık döneminde yurt dışını ziyaret eden vatandaş sayısına
 B) 2019 yılının Ekim – Aralık döneminde ülkemizden çıkış yapan ziyaretçi sayısının 2018 yılının aynı dönemine göre arttığına
 C) 2018 yılının Ekim – Aralık dönemindeki turizm giderinin miktarına
 D) 2018 yılının Ekim – Aralık dönemi ile 2019 yılının aynı dönemi arasındaki turizm geliri farkına

7. Çekim ekleri, sözcüğe yeni bir anlam kazandırmaz. Ancak sözcüğün diğer sözcüklerle bağ kurmasını ve cümlede farklı görevler almasını sağlar. Yapım ekleri ise sözcüğe yeni bir anlam kazandırır.

Buna göre aşağıdaki altı çizili sözcüklerden hangisi hem yapım hem de çekim eki almıştır?

- A) Saatimin pili bittiği için size getireyim istedim.
 B) Arkadaşlarımla okulda yaşadığımız anları unutamıyorum.
 C) Mahalledeki evlerin yıkım kararı alınması hepimizi üzdü.
 D) Masmavi denize girmenin hayali ile yatıp kalkıyorum.

8. Büyüklerimizin zamanla ilgili nasihatlerine kulak tıklarız hepimiz. Önümüzde zamanın daha çok olduğunu düşünürüz. Ama her yaş diliminde “Ya daha çok zaman var, şunu da yapmayı ileriye bırakalım.” deme hastalığımızın hiçbir zaman için tedavi edilemeyeceğinin farkında olmalıyız.

Bu paragrafın ana fikri aşağıdakilerden hangisidir?

- A) Bugünün işini yarına bırakmadan bugün halletmeliyiz.
 B) Her zaman tüm işlerimizi zamanında halledemeyiz.
 C) Yapılacak işlerin bazılarını ertelemek insanı rahatlatır.
 D) Bir işi yapabilecek başka bir zamanımız daha varsa o işimizi erteleyebiliriz.

9. En kolay kalay maddesi ile alaşım gerçekleştirebilen kurşun, elektrik sigortası yapımında sıkça kullanılmaktadır. Dayanıklı kurşun elde etmek için en çok yararlanılan elementlerden biri de antimon elementidir.

Altı çizili cümlenin anlam özelliği aşağıdakilerden hangisidir?

- A) Amaç – sonuç B) Tahmin
 C) Varsayım D) Neden – sonuç

10. Bir şiirde karşıt anlamlı sözcüklerden hareketle iki zıt durumun verilmesine tezat (karşıtlık) denir.

Buna göre aşağıdaki dizelerin hangisinde tezat vardır?

- A) Seni yaşamamıza katan kuş
 Kızıl güller diker bahçemize
 B) Ne zaman ayrılır iyi ile kötü
 Ya da dünya hep böyle mi kalır?
 C) Kırmızı iri güller her zaman
 Büyük acıları çağırıştırır bende
 D) Yaşam söylüyor şarkılarını
 Şafakla başlayan çekiç sesleri

11. Eteğimin pilesini, saçımın lülesi
 Şarkımın melodisi, günlerimin güneşi
 Evimizin direği, hayallerimin kahramanı
 Her şeyimsin sen.

Bu dizelerde kaç tane isim tamlaması vardır?

- A) 6 B) 5 C) 4 D) 3

12. Deyimler Türkçemizin zenginliğidir. Duygu ve düşüncelerimizi deyimlerle daha kısa ve etkili bir biçimde anlatabiliriz. Örneğin “belleğine iyice yerleştirmek” anlamında ---- “çaresiz bir durumda kalmak” anlamında ----, “bir işin sonucunu tahmin edebilmek” anlamında ---- deyimlerini kullanırız.

Aşağıdakilerin hangisi bu metinde boş bırakılan yerlerden herhangi birine getirilemez?

- A) boyun bükmek
B) mecbur kalmak
C) aklına kazımak
D) uzağı görmek

13. Somut olarak yer bildirmeyen “alt”, “üst” ve “üzeri” sözcüklerinin sona getirilmesiyle kurulan birleşik kelimeler bitişik yazılır.

Bu açıklamaya göre aşağıdaki cümlelerin hangisinde yazım yanlışı vardır?

- A) Burası ayakaltı bir yer olduğu için gelmek istemezdi.
B) Herkes akşamüzeri toplanacak ve bu konuyu konuşacak.
C) Gözaltı şişliklerine nasıl çözüm bulunur, diye sordu.
D) Yarın yeni bir dizüstü bilgisayar almaya gideceğim.

14. Türk edebiyatının en değerli şair ve yazarlarından biri olan Sabahattin Ali; eserleri birçok dile çevrilmiş, şiirleri bestelenmiş bir isimdir.

Bu cümle aşağıdakilerin hangisinde verilenlerin birleştirilmesiyle oluşturulmuştur?

- A) • Sabahattin Ali, Türk edebiyatının en değerli şair ve yazarlarından biridir.
• Sabahattin Ali'nin eserleri birçok dile çevrilmiş, şiirleri bestelenmiştir.
- B) • Sabahattin Ali, Türk edebiyatındaki şair ve yazarlarından biridir.
• Sabahattin Ali'nin eserleri birçok dile çevrilmiş, şiirleri bestelenmiş bir isimdir.
- C) • Sabahattin Ali, Türk edebiyatının en değerli şair ve yazarlarından biridir.
• Sabahattin Ali; eserleri, şiirleri bestelenmiş bir isimdir.
- D) • Sabahattin Ali'nin eserleri birçok dile çevrilmiş, şiirleri bestelenmiştir.
• Sabahattin Ali, Türk edebiyatının en değerli şairlerinden biridir.

15.

DIŞ TİCARET İSTATİSTİKLERİ

Türkiye'nin ihracatı, haziranda geçen yılın aynı ayına göre %1,3, ithalatı da %3,8 azaldı.

Dış ticaret açığı %9,1 azalışla 6 milyar 48 milyon dolardan 5 milyar 497 milyon dolara düştü.

■ Haziran 2017

■ Haziran 2018

■ Ocak - Haziran 2018

İHRACAT (DOLAR)

13 MİLYAR 125 MİLYON

12 MİLYAR 954 MİLYON

82 MİLYAR 223 MİLYON

%1,3

AZALIŞ

ihracatın
ithalati
karşılama
oranı %

68,5

70,2

66,9

İTHALAT (DOLAR)

19 MİLYAR 174 MİLYON

18 MİLYAR 451 MİLYON

122 MİLYAR 960 MİLYON

%3,8

AZALIŞ

AB'YE YAPILAN İHRACAT

AB'ye yapılan ihracat

%6,4

ARTTI

▶ 6,6 MİLYAR \$

AB'nin ihracattaki payı

% 47,5

%51,2

EN FAZLA İHRACAT YAPILAN ÜLKELER (DOLAR)

ALMANYA 1 MİLYAR 308 MİLYON

İNGİLTERE 882 MİLYON

İTALYA 815 MİLYON

ABD 627 MİLYON

EN FAZLA İTHALAT YAPILAN ÜLKELER

ÇİN 1 MİLYAR 838 MİLYON

RUSYA 1 MİLYAR 794 MİLYON

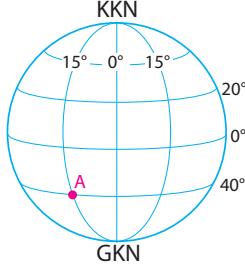
ALMANYA 1 MİLYAR 793 MİLYON

ABD 1 MİLYAR 149 MİLYON

Bu görselden hareketle aşağıdakilerden hangisine ulaşamaz?

- A) Haziran 2018'deki ithalatın 2017 yılının aynı dönemindeki ithalattan az olduğuna
 B) Almanya'ya yapılan ihracatın Almanya'dan yapılan ithalattan fazla olduğuna
 C) 2018 yılının Ocak – Haziran dönemindeki ithalat ile ihracat miktarları arasındaki farka
 D) AB'nin ihracattaki payı Haziran 2018'de, Haziran 2017'den daha fazladır.

1.



Yukarıdaki Dünya şekli üzerinde yer alan A merkezinin coğrafi koordinatı hangi seçenekte doğru verilmiştir?

- A) 15° doğu meridyeni 20° kuzey paralelidir.
- B) 40° batı meridyeni 15° güney paralelidir.
- C) 20° doğu meridyeni 40° kuzey paralelidir.
- D) 15° batı meridyeni 40° güney paralelidir.

2.

Ülkemizde kurulan bilim merkezleri, farklı yaş gruplarından ve farklı birikime sahip bireyleri bilimle buluşturmaktadır. Bu bilim merkezleri bilim ve teknolojiyi toplum için anlaşılır ve ulaşılır hale getirmeyi amaçlar. Ziyaretçilere deneysel ve uygulamalı etkinlikler sunar.

Bu bilgilerden hareketle bilim merkezleri ile ilgili;

- I. Bireylerin bilgiye ulaşmasını kolaylaştırır.
- II. Toplumumuzda bilim kültürünü yaygınlaştırmayı hedefler.
- III. Ziyaretçilerine ekonomik baskı uygular.

yargılarından hangisi ya da hangileri ileri sürülebilir?

- A) Yalnız I
- B) I ve II
- C) II ve III
- D) I, II ve III

- 3. Anadolu'nun güneydoğusunda çıkartılan bu enerji kaynağı, ihtiyacımızı karşılayamamaktadır. Motorlu araçlarda yakıt olarak kullanılır.

Yukarıdaki bilgiler aşağıdaki yer altı kaynaklarından hangisine aittir?

- A) Bakır
- B) Demir
- C) Petrol
- D) Taş kömürü

4.

Toros Dağları'nda geçimini hayvancılıkla sağlayan yörük adı verilen konargöçer bir topluluk yaşamaktadır. Bu topluluk yazın hayvanlarını otlatmak için yaylalara giderek çadırlarda kalırlar. Sonbahar olunca da sahile inerek maki alanlarında hayvanlarını otlatırlar.

Bu bilgilere göre, konargöçerlerin hangi iklim tipinin görüldüğü alanlarda yaşadıkları söylenebilir?

- A) Karadeniz iklimi
- B) Muson iklimi
- C) Akdeniz iklimi
- D) Karasal iklimi

- 5. Fikir hırsızlığı (korsan) sahibinden izin almadan kitap, film, CD ve DVD gibi fikir veya sanat eserlerinden çoğaltma yapılarak elde edilen ürünleri ifade eder.

Buna göre, korsan ürün almamaya dikkat eden bir kişi ile ilgili;

- I. Eser sahibinin emeğine saygı duymaktadır.
- II. Eserlerin yasa dışı yollarla çoğaltılmasına karşıdır.
- III. Ekonomik çıkarlarını korumaktadır.

yargılarından hangisine ya da hangileri ile ulaşılabilir?

- A) Yalnız II
- B) I ve II
- C) II ve III
- D) I, II ve III

6. Telif hakkı, kişinin her türlü fikri emeği ile meydana getirdiği ürünler üzerindeki hukuki haklardır. Bu hak sayesinde ortaya konan eser, ancak sahibinin izniyle kullanılabilir ve yayılabilir.

Buna göre, telif hakkı ile ilgili aşağıdaki yargılardan hangisine ulaşılabilir?

- A) Kişinin emeğinin korunmasını amaçlar.
B) Bireylerin hukuki haklarını kısıtlar.
C) Eser sahibine ekonomik zarar verir.
D) Eserin izinsiz de çoğaltılmasını sağlar.

7. Göbeklitepe, Şanlıurfa'nın 20 kilometre kuzeydoğusundaki Örencik köyü yakınında yer almaktadır. İnşası MÖ 10.000 yılına uzanan Göbeklitepe, tarihte bilinen en eski ve en büyük ibadet merkezidir. Bölgede yapılan araştırmalar sonucunda taş aletler, heykeller ve bitki kalıntıları bulunmuştur.

Buna göre, Göbeklitepe'deki kazılar sosyal bilimlerin hangi dalında çalışan bilim insanları tarafından gerçekleştirilmiştir?

- A) Arkeoloji
B) Antropoloji
C) Tarih
D) Sosyoloji

8. Türkiye Selçuklu Devleti döneminde yapılan kervansaraylar tüccarların mallarını sergilemeleri ve pazarlamaları için kullanılmıştır.

Bu bilgilerde kervansarayların hangi alandaki etkisinden söz edilmektedir?

- A) Din
B) Askeri
C) Siyasi
D) Ekonomi

9. Bilimsel araştırmalar yapılırken izlenilmesi gereken metotlar vardır. Bir araştırma yapılırken ilk olarak neyin araştırılması gerektiği bilinmelidir. Konu ya da olay hakkında bilgi sahibi olunursa bir sonraki aşamalar daha net ve anlaşılır olur.

Parçada verilen bilgilerden hareketle;

- I. Bilimsel araştırmalarda sadece gözlem yapılması gerektiği,
- II. Araştırma yapılmadan önce ilk olarak konunun belirlenmesi gerektiği,
- III. Araştırmada konu hakkında bilgi sahibi olmanın bir sonraki aşamaların anlaşılmasını kolaylaştırdığı

yargılarından hangisi ya da hangileri söylenemez?

- A) Yalnız I
B) Yalnız II
C) I ve II
D) II ve III

10. **Millî Tarım Projesi Pamuk Üreticisinin Yüzünü Güldürdü**

T.C. Gıda Tarım ve Hayvancılık Bakanlığının hazırladığı "Türkiye Tarım Destekleme Modeli" ile Çukurova'da çiftçinin yüzü gülüyor. Millî Tarım Projesi, bugüne kadar tarım alanındaki en büyük çalışmalardan biri olmuştur.

Yukarıda hakkında bilgi verilen proje ile ilgili aşağıdaki yorumlardan hangisi yapılamaz?

- A) Pamuk üreticisine ekonomik kazanç sağlamıştır.
B) Tarım faaliyetlerinin ülke ekonomisine olan katkısını azaltmıştır.
C) Tarım alanındaki çalışmaları desteklemiştir.
D) T.C. Gıda Tarım ve Hayvancılık Bakanlığı tarafından hazırlanmıştır.

1.



Bugün sınav olacağından habermiyoktu. O yüzden düşük not bekliyorum.

İnsanların bu duruma düşmemeleri için, Yüce Allah peygamberler aracılığıyla ahiret sınavını haber vermiştir.

Bu durum aşağıdaki ayetlerden hangisinde açıklanmıştır?

- A) "(Önce) en yakın akrabana uyar." (Şuarâ Suresi, 214. ayet)
- B) "O, ana-babasına çok iyi davranırdı; o, isyankâr bir zorba değildi." (Meryem Suresi, 14. ayet)
- C) "Müjdeleyiciler ve uyarıcılar olarak peygamberler gönderdik ki, peygamberlerden sonra insanların Allah'a karşı bir bahaneleri olmasın..." (Nisa Suresi, 165. ayet)
- D) "Şüphesiz Tevrat'ı biz indirdik. İçinde bir hidayet, bir nur vardır..." (Maide Suresi, 44. ayet)

2. Yemen Valisi Ebrehe, ticaretin merkezi olan Mekke'ye alternatif olması ve Hristiyanlığın yayılması amacıyla büyük bir kilise yaptırır. Fakat yeterli ilgiyi göremeyince Mekke'de bulunan Kâbe'yi yıkmak ister. Kendisinin de başında olduğu, fillerle güçlendirilmiş bir orduyla Mekke'ye doğru yol alır. Kâbe'nin sahibi olan Yüce Allah buna izin vermez. Kocaman fillere karşı küçük ehabil kuşlarını görevlendirir ve ehabil kuşları fil ordusunun üzerine taş yağdırır. Böylece Ebrehe'nin ordusu helak olur.

Bu olay tarihte hangi adla bilinir?

- A) Cahiliyye dönemi
- B) Fetret Devri
- C) Haram aylar
- D) Fil Vak'ası

3.



Peygamberler de bizim gibi insandır. Ancak onların küçük hataları dahi Yüce Allah'ın uyarısıyla düzeltilmiştir. İnsanlara örnek olma sorumluluğu taşıyan peygamberler günahlardan korunmuştur.

Tolga Öğretmen, peygamberlerin hangi özelliğini açıklamaktadır?

- A) Emanet
- B) Fetanet
- C) Tebliğ
- D) İsmet

4. Her müslüman, evinde Kur'an-ı Kerim bulundurur. Bir çok işyerinde, taşıtta Kur'an ayetlerinin yazılı olduğu panolar vardır. Bunlar kültürümüzde, Kur'an-ı Kerim'e olan gösteren örneklerdir.

Açıklamada boş bırakılan yere aşağıdakilerden hangisi yazılamaz?

- A) Sevginin
- B) Saygının
- C) Bağlılığın
- D) Duyarsızlığın

5. Hutbe; Bazı ibadet ve törenlerin yerine getirilmesi esnasında topluluğa karşı yapılan konuşmadır.

Buna göre;

- I. Cuma,
- II. Bayram,
- III. Öğlen,
- IV. Sabah,

namazlarından hangilerinde hutbe yapılır?

- A) Yalnız III
- B) I ve II
- C) II ve III
- D) II ve IV

6.



Selda

Zor durumda kalan kulun Allah'tan yardım dilemesidir.



Bülent

Müslümanların yaşadıkları herhangi bir mutluluktan dolayı Allah'a şükretmesidir.



Mert

Kulun, şikayetlerini Yüce Allah'a iletmesidir.

Kunut duaları ile ilgili öğrencilerden hangilerinin ifadeleri doğrudur?

- A) Yalnız Bülent
- B) Yalnız Mert
- C) Selda ve Bülent
- D) Selda, Bülent ve Mert

7.

Namaz, birlikte yaşama ve dayanışma bilincini geliştirir. Birlikte kılınan namazlar sayesinde Müslümanlar bir bütün olur, sıkıntılarını ve sevinçlerini paylaşma imkanı bulur. Bu nedenle İslam dini namazın toplu olarak kılınmasına büyük önem vermiş, cemaatle namazı teşvik etmiştir.

Sevgili Peygamberimiz, aşağıda verilen sözlerinden hangisi ile bu konuyu vurgulamıştır?

- A) "Şayet camide cemaate erken yetişmenin ne kadar faziletli olduğunu bilselerdi, birbirleriyle yarışa girerlerdi..."
- B) "Secde; kulun Rabbi'ne en yakın olduğu andır."
- C) "Müslüman, müslümanın kardeşidir."
- D) "Kesinlikle hiç kimse kendi el emeğinden daha hayırlı bir yemek yememiştir."

8.

İstemediğimiz bir teklifle karşılaştığımızda, karşıımızdakine kim olursa olsun açık bir şekilde " " diyebilmeliyiz. Böyle durumlarda kendi istek, duygu ve düşüncelerimizi karşıımızdakine uygun bir dille ve açık yüreklilikle ifade edebilmeliyiz.

Açıklamada boş bırakılan yere aşağıdakilerden hangisi yazılmalıdır?

- A) Hayır
- B) Olabilir
- C) Belki
- D) Önce biraz düşünmeliyim

9.

Peygamberlerin mucizeleri ile ilgili aşağıdakilerden hangisi söylenemez?

- A) Peygamberlerin, Allah'ın izni ve yardımıyla yaptıkları olağanüstü olaylardır.
- B) İnsanların benzerini yapmaktan aciz kaldığı, alışlagelmiş şeylere aykırı olaylardır.
- C) Mucizeleri gören inkarcıların tamamı iman etmişlerdir.
- D) Allah, inkarcılara karşı çeşitli mucizelerle peygamberlerini desteklemiştir.

10. Ezanda geçen;

- I. Allah en büyüktür,
- II. Haydi namaza,
- III. Haydi kurtuluşa,
- IV. Namaz uykudan hayırlıdır

cümlelerinden hangisi, sadece sabah ezanına aittir?

- A) I
- B) II
- C) III
- D) IV

1.



I can make dresses. I can cut and sew fabric. I am a/an

- A) architect
- B) lawyer
- C) mechanic
- D) tailor

2. Fred :

Aysu : I am a nurse.

- A) What is your father's job?
- B) What do you do?
- C) What does your sister do?
- D) What is your name?

3. I became a teacher in 1999.

Altı çizili tarihin okunuşu hangisinde doğru verilmiştir?

- A) nineteen ninety-nine
- B) nineteen nineteen
- C) ninety ninety-nine
- D) ninety nineteen

4. **Cansu :** What does your mother do?

Holy : She teaches Social Sciences to her

- A) students
- B) teachers
- C) friends
- D) workers

5.



İdil went with her family last winter.

- A) sailing
- B) ice-skating
- C) swimming
- D) skiing

6.

17 / 05 / 2019

Yukarıda verilen tarihin doğru okunuşu aşağıdakilerden hangisidir?

- A) The seventh of May, two thousand nineteen
- B) The seventh of April, two thousand nineteen
- C) The seventeenth of May, two thousand nineteen
- D) The seventeenth of May, two thousand ninety

7. **Arzu** : When did you come back from Italy?

Sue : I came back from Italy

Arzu : How was it like?

Sue : Wonderful.

- A) now
- B) yesterday
- C) last
- D) ago

8.



James :

Mutlu : I stayed at a hotel by the seaside.

- A) Where did you stay on vacation?
- B) Which country did you visit?
- C) How often do you go on vacation?
- D) How did you go on vacation?

9. **Laila** : ?

Selim : No, I didn't. I went to Mardin.

- A) Who went to Mardin last week
- B) Did you go to Mersin last weekend
- C) Where did you go on vacation
- D) How was your trip to Mardin

10. Last summer, I went on holiday with my family. We went to seaside and swam in the sea. We got on a sightseeing bus and had good time. We camped in a big forest and we ate a lot of watermelons because it is my favourite fruit.

Verilen cümledeki eylemleri anlatmayan resim hangisidir?

A)




B)



C)



D)



1. Bir ülkede 4 şehir, her şehirde 4 il, her ilde 4 ilçe ve her ilçede 4 okul vardır.

Buna göre, bu ülkedeki okul sayısı aşağıdaki ifadelerden hangisine aittir?

- A) 2^4 B) 4^3 C) 2^8 D) 2^{16}

2. Sude Öğretmen tahtaya 4 farklı işlem yazmıştır. Her birini bir öğrenci çözecektir.

Aysun: $20 : 5 - 2^3 \cdot 2$

Can: $8^2 : 4 - 5^2 + 10$

Tuğrul: $5^3 - 7^2 \cdot 2$

Ali: $3^4 : (10-1) + 2^3$

4 öğrenci de işlemi doğru yaptığına göre, hangisinin bulduğu sonuç diğerlerinin sonucundan büyüktür?

- A) Aysun B) Tuğrul
C) Can D) Ali
3. Yemekhanede sıra bekleyen Suat'ın önündeki kişi sayısı, arkasındaki kişi sayısının yarısı kadardır.



11. sıra

Suat baştan 11. sırada olduğuna göre, sırada kaç kişi vardır?

- A) 16 B) 19 C) 21 D) 31

4. Bir sınıftaki öğrencilere eşit sayıda dağıtmak üzere 210 tane kitap alınmıştır.

Kitap artmadığı bilindiğine göre, sınıftaki öğrenci sayısı kaç olamaz?

- A) 15 B) 21 C) 35 D) 60

5. Bir alışveriş merkezinin otoparkına aracını bırakan Sibel Hanım, asansöre binmiştir. Asansörle 13 kat çıkan Sibel Hanım 7. kata gelmiştir.



Sibel Hanım'ın aracını bıraktığı otopark zemin kattan (0. kat) daha aşağıdadır.

Buna göre, Sibel Hanım'ın aracı kaçınıc kattadır?

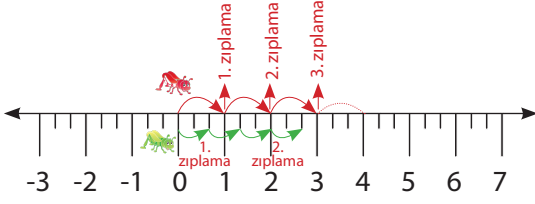
- A) -1 B) -3 C) -6 D) -7

6. Bir turist grubunun $\frac{1}{4}$ 'ü İngiliz, $\frac{1}{3}$ 'ü Alman ve geriye kalanlar Fransız'dır

Grupta 25 Fransız olduğuna göre, Alman turistlerin sayısı kaçtır?

- A) 15 B) 20 C) 25 D) 30

7. Aşağıdaki sayı doğrusunda her iki sayının arası 1 cm olup, eşit 3 parçaya ayrılmıştır.



Şekildeki gibi, kırmızı çekirge 10 kez, yeşil çekirge 7 kez zıplamıştır.

Buna göre, son durumda çekirgeler arası uzaklık kaç cm olur?

- A) 2 B) $\frac{7}{3}$ C) 4 D) $\frac{16}{3}$

8. İki ayrı sürahide limonata ve ayran vardır.



Ayran sürahisinin $\frac{1}{3}$ 'ü, limonata sürahisinin $\frac{3}{4}$ 'ü doludur. İçeceklerden eşit 3 bardak ayran, 12 bardak limonata çıkmıştır.

Buna göre, sürahilerin litreleri oranı kaçtır?

- A) $\frac{1}{4}$ B) $\frac{9}{16}$ C) $\frac{3}{4}$ D) 1

9. Beril, Ankara'dan İstanbul'a aracıyla gitmektedir.




Beril, 1. molasını yolun $\frac{1}{5}$ 'ini gittikten sonra vermiştir. Sonra kalan yolun yarısını gitmiş ve tekerleği patlamıştır.

Beril'in tekerleğinin patladığı yer ile İstanbul arası 200 km ise, İstanbul-Ankara arası kaç km'dir?

- A) 350 B) 400 C) 450 D) 500

10. Alanları verilen dikdörtgen kartonların her biri 8 eş parçaya ayrılacaktır.



Ayrılma sonucu oluşan parçalar yeşil ile boyanacaktır.

Buna göre, hangisi yeşil kartonlardan birinin alanı olamaz?

- A) 8,75 B) 5,625 C) 5,5 D) 2,25

11. Bir markette bir çikolata tek ve 6'lı paketler halinde satılmaktadır.



75 kuruş



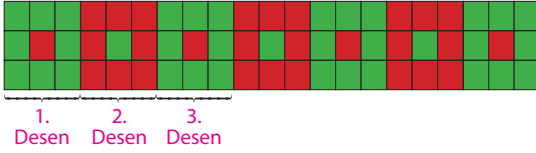
3,24 lira

(1 lira= 100 kuruş)

Buna göre, 6 çikolata almayı planlayan biri tek tek almak yerine 6'lı paketten alırsa bir tane çikolata için kaç lira az öder?

- A) 0,10 B) 0,21 C) 0,45 D) 0,60

12. Her biri 1 br² olan karelerin 9 tanesi ile bir desen oluşturulmuştur.



(Bu şekilde 7 desen oluşturulmuştur.)

Buna göre, kırmızı karelerin alanının, yeşil karelerin alanına oranı kaçtır?

- A) $\frac{4}{5}$ B) $\frac{5}{6}$ C) 1 D) $\frac{3}{2}$

13. Bir bahçedeki güllerin sayısının 4 fazlasının 5 katı kadar papatya vardır.

Buna göre, güllerin sayısı a ise, papatya sayısı nasıl gösterilir?

- A) $a + 4 \cdot 5$ B) $5(a + 4)$
C) $4(a + 5)$ D) $4 + 5a$

14. Bir fidanın uzama miktarının, zamana bağlı değişimi verilmiştir.

y: Fidanın uzama miktarı (m)

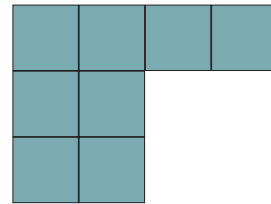
x: Zaman (yıl)

$$y = \frac{3x + 5}{2}$$

Buna göre, 3 yıl sonra fidan toplam kaç metre uzar?

- A) 5 B) 7 C) 8 D) 10


15. Eşit büyüklükte bir kenarı a br olan 8 kare karton şekildeki gibi birleştirilmiştir.



Buna göre, oluşturulan bu şeklin çevresi hangi cebirsel ifade ile gösterilir?

- A) 10a B) 12a C) 14a D) 16a

1.



Güneş, Dünya ve Ay'ın birbirlerine göre konumu yukarıdaki gibi olduğunda gerçekleşen doğa olayı ile ilgili aşağıdakilerden hangisi söylenebilir?

- A) Gece gerçekleşir.
 B) Ay'ın gölgesi Dünya'ya düşer.
 C) Yalnızca Ay'ın dolunay evresinde gerçekleşir.
 D) Dünya, Güneş ve Ay'ın arasında kaldığında gerçekleşir.

2.



Yukarıdaki model solunum sistemini oluşturan yapı ve organları göstermek için hazırlanmıştır. **Buna göre bu model ile ilgili aşağıdakilerden hangisi söylenebilir?**

- A) Y borusu, soluk borusu ve bronşları temsil etmektedir.
 B) Pet şişe akciğerleri temsil etmektedir.
 C) Küçük balonlar diyaframı temsil etmektedir.
 D) Büyük balon göğüs kafesini temsil etmektedir.

3. K, L, M ve N organlarından;

- K, safra denilen bir sıvı salgılayarak ince bağırsağa gönderir.
- L, besinlerin kana geçebilecek kadar küçük parçalara ayrıldığı yerdir.
- M, besinlerin ağızdan yemek borusuna iletilmesini sağlar.
- N, yapısında bulunan kaslar yardımıyla besinleri bulamaç hâline getirir.

Buna göre K, L, M ve N organlarından hangilerinde besinlerin sindirimi gerçekleşir?

- A) K ve L
 B) K ve M
 C) L ve N
 D) M ve N

4. Aşağıdaki eklemlerden hangisi hareket yeteneğini kaybetmiştir?

- A) El ve ayak eklemleri
 B) Kol ve bacak eklemleri
 C) Omurlar arasındaki eklemler
 D) Kafatası kemikleri arasındaki eklemler

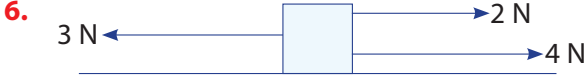
5.

Sorular	Cevaplar
Dış gezegen midir?	Hayır
Uydusu var mıdır?	Evet
Üzerinde yaşam var mıdır?	Hayır

Yukarıdaki tabloda güneş sistemindeki bir gezegen ile ilgili bazı sorular ve cevapları verilmiştir.

Buna göre bu gezegen aşağıdakilerden hangisidir?

- A) Mars
 B) Venüs
 C) Dünya
 D) Jüpiter



Yukarıdaki cisim sürtünmesiz yatay yolda belirtilen kuvvetlerin etkisinde hareket etmektedir.

Buna göre cismin sabit süratle hareketine devam etmesi için uygulanması gereken dördüncü kuvvetin büyüklüğü hangi seçenekte doğru verilmiştir?

- A) 3 N B) 5 N
C) 4 N D) 6 N

7. K aracı 10 s' de 200 m yol almaktadır.

Buna göre K aracının sürati kaç m/s'dir?

- A) 10 B) 20
C) 50 D) 100

8.

Kuvvet	Yönü	Büyüklüğü
F_1	Doğu	▲
F_2	Batı	■
F_3	Kuzey	●
F_4	Güney	☆


Yukarıda aynı noktaya etki eden F_1 , F_2 , F_3 ve F_4 kuvvetlerinin yönleri verilmiş ve büyüklükleri sembollerle gösterilmiştir.

Bu kuvvetlerin bileşkesinin yönü kuzey olduğuna göre ▲, ■, ● ve ☆ sembollerinin temsil ettiği değerler arasındaki ilişki hangi seçenekteki gibi olabilir?

- A) ▲ = ■ = ● = ☆
B) ▲ > ● = ☆ > ■
C) ☆ > ● > ▲ = ■
D) ● > ▲ = ■ > ☆

9. **Aşağıdakilerden hangisi yenilenebilir enerji kaynaklarından biri değildir?**

- A) Jeotermal enerji
B) Rüzgâr enerjisi
C) Nükleer enerji
D) Biyokütle enerjisi



Farklı maddelerden yapılan cisimlerden çıkan seslerin farklı olduğunu göstermek isteyen bir araştırmacı metal bir çubuk ile yukarıdaki cisimlerden hangilerine hafifçe vurarak çıkan sesleri dinlemelidir?

- A) I ve II B) II ve IV
C) I ve III D) III ve IV

11.

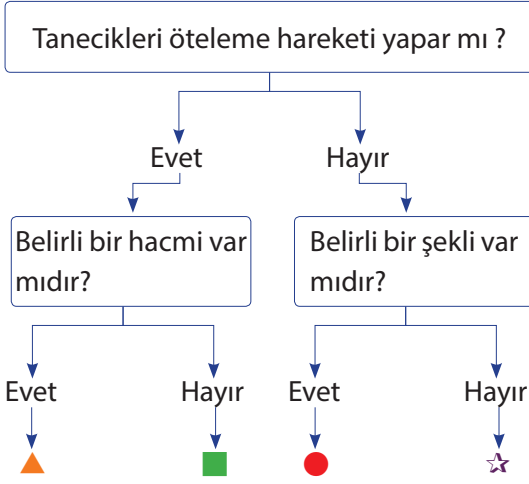
Araç	K	L	M
Süre	10 dakika	20 dakika	15 dakika

Sabit süratlerle hareket etmekte olan K, L ve M araçları 10 km uzunluğundaki bir yolu yukarıdaki tabloda verilen sürelerde alıyor.

Buna göre K, L ve M araçlarının süratleri arasındaki ilişki hangi seçenekte doğru verilmiştir?

- A) $K = L = M$ B) $K > L > M$
C) $K > M > L$ D) $L > M > K$

12.



Yukarıda maddenin fiziksel hâllerine ait bazı sorular verilmiştir. Buna göre bu sorular maddenin katı, sıvı ya da gaz hâline göre ayrı ayrı cevaplandırıldığında hangi çıkışlara ulaşılır?

	<u>Katı</u>	<u>Sıvı</u>	<u>Gaz</u>
A)	■	☆	●
B)	●	▲	☆
C)	☆	■	▲
D)	●	▲	■

13.

1.	Dereceli Silindir	2.	Cetvel	3.	Dinamometre
4.	Elektronik Terazi	5.	Cıva	6.	Su

Bir taşın yoğunluğunu hesaplamak isteyen Ebru, yukarıdaki malzemelerden hangilerini kullanarak amacına ulaşabilir?

- A) 1 - 4 - 6
B) 1 - 3 - 5
C) 2 - 4 - 6
D) 2 - 3 - 5

14.



Sokak hayvanları için barınak yapmaya karar veren Erkan, topladığı kartonlardan bir kulübe yapmıştır. Hayvanların soğuktan korunmasını isteyen Erkan kulübenin içini bir malzemeyle kaplamak istemektedir.

Buna göre Erkan'ın kulübenin içini kaplamak için aşağıdaki malzemelerden hangisini kullanması uygun olmaz?

- A) Halı
B) Ahşap
C) Strafor köpük
D) Alüminyum folyo

15.



Akvaryumdaki motorun sesi Can'a ulaşmaya kadar sırasıyla hangi ortamlardan geçmektedir?

- A) Katı - Sıvı - Gaz
B) Sıvı - Katı - Gaz
C) Sıvı - Gaz - Katı
D) Gaz - Katı - Sıvı